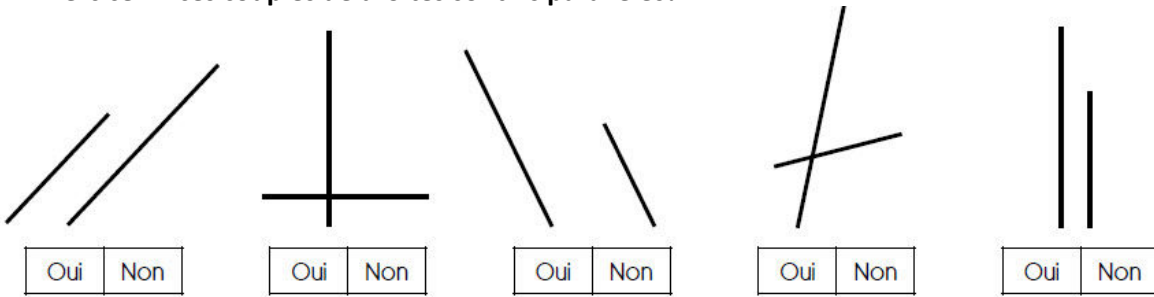
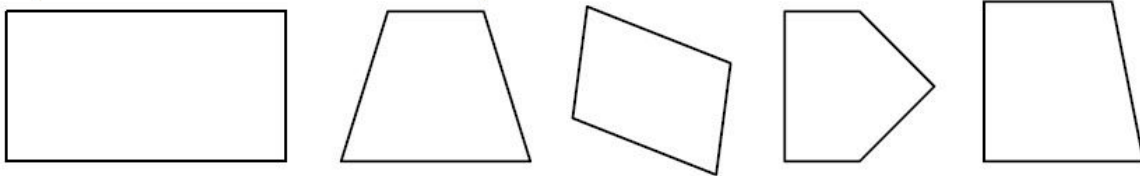


Exercice 1 : ces couples de droites sont-ils parallèles?

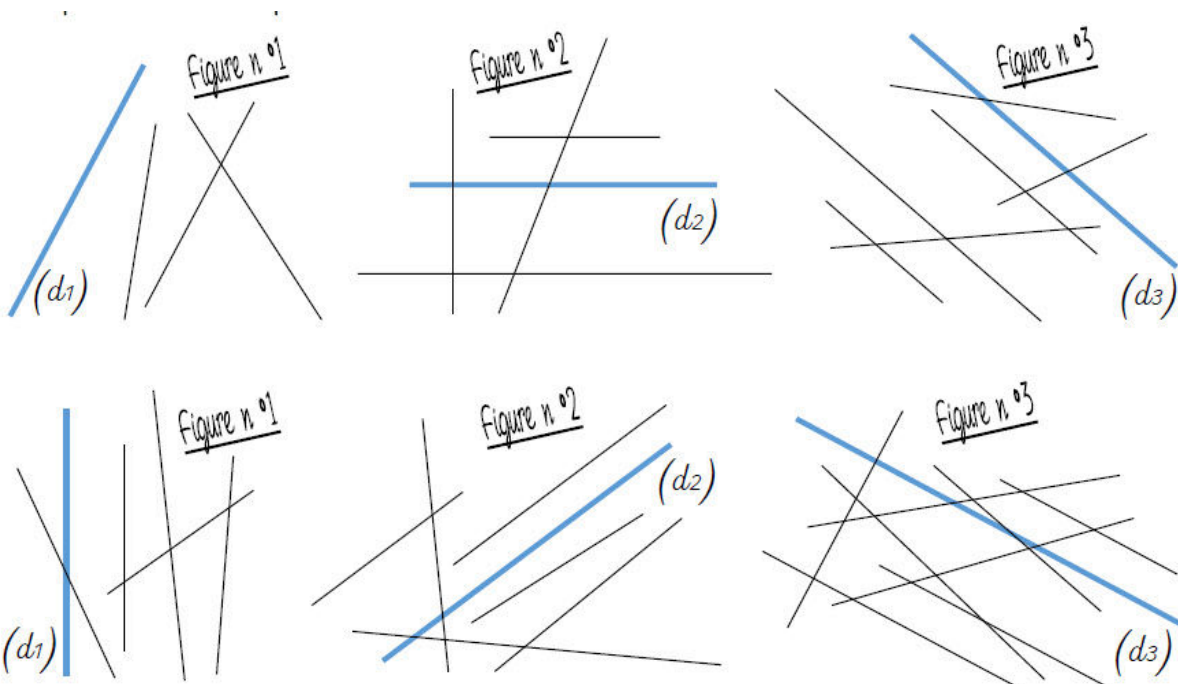


Exercice 2 : repasse de la même couleur les côtés parallèles entre eux.




Exercice 3 : dans ton cahier, trace un rectangle de 5 carreaux sur 8, puis repasse en couleur les côtés parallèles entre eux.

Exercice 4 : repasse les droites parallèles aux droites (d1), (d2) et (d3).



Exercice 5 : repasse de la même couleur les côtés parallèles entre eux.

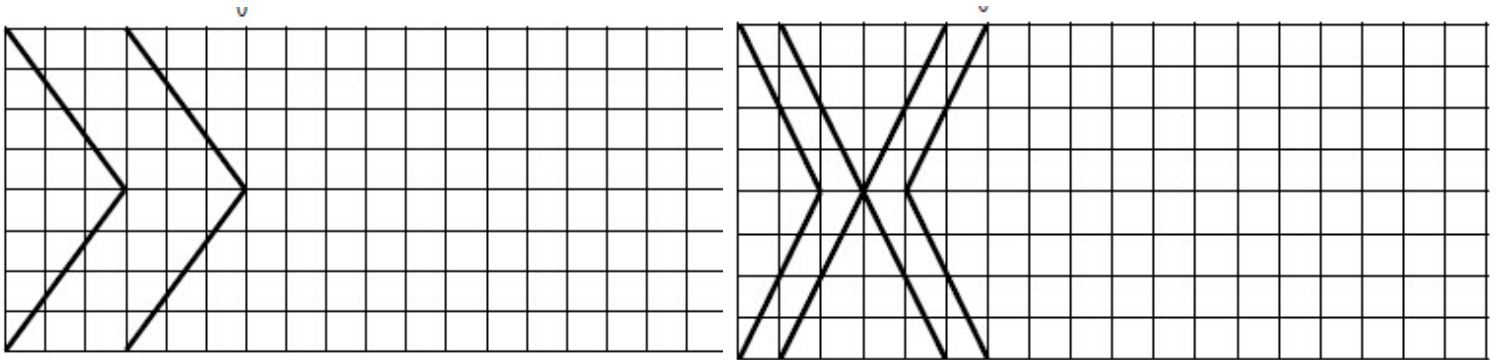


Exercice 6 : dans ton cahier, trace un rectangle de 8 carreaux sur 4, puis repasse en couleur les côtés parallèles entre eux.

Exercice 7 : trace une droite (d2) parallèle à (d1) et distante de 3 cm.



Exercice 8 : continue les frises.



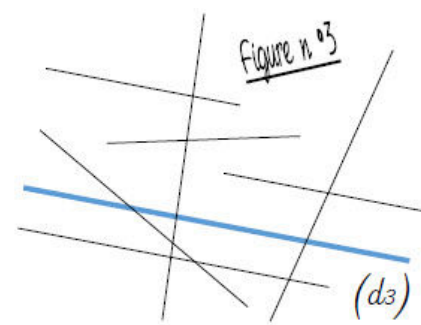
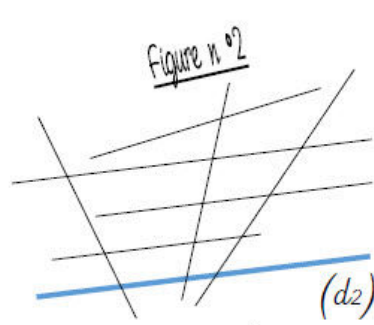
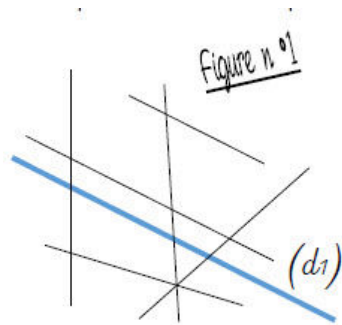
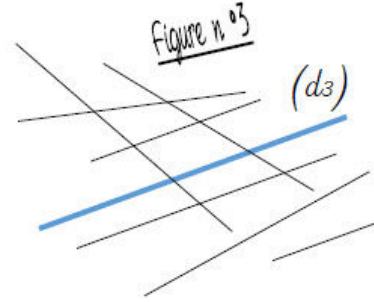
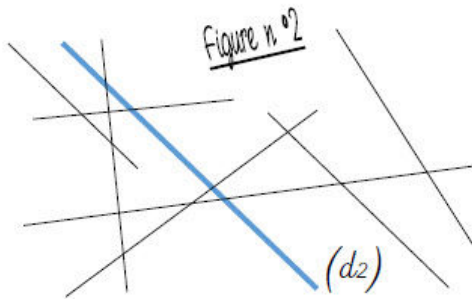
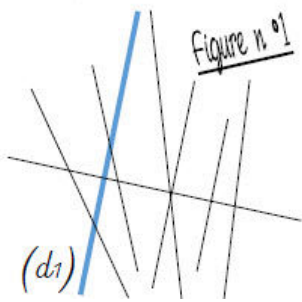
Exercice 9 : trace une droite (d2) parallèle à (d1) et distante de 3cm.



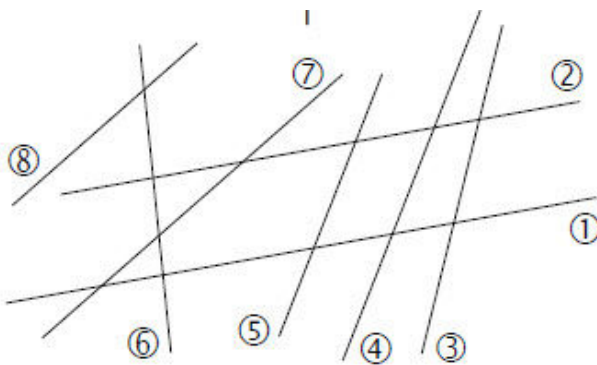
Exercice 9 : trace une droite (d4) parallèle à (d3) et passant par le point A.



Exercice 10 : repasse les droites parallèles aux droites (d1), (d2) et (d3).



Exercice 11 : coche la bonne réponse.



1) Les droites ① et ② sont parallèles.	<input type="checkbox"/> Vrai <input type="checkbox"/> Faux
2) Les droites ③ et ④ ne sont pas parallèles.	<input type="checkbox"/> Vrai <input type="checkbox"/> Faux
3) Les droites ③ et ⑤ sont parallèles.	<input type="checkbox"/> Vrai <input type="checkbox"/> Faux
4) Les droites ⑥ et ⑧ ne sont pas parallèles.	<input type="checkbox"/> Vrai <input type="checkbox"/> Faux
5) Les droites ⑦ et ⑧ ne sont pas parallèles.	<input type="checkbox"/> Vrai <input type="checkbox"/> Faux
6) Les droites ④ et ⑤ sont parallèles.	<input type="checkbox"/> Vrai <input type="checkbox"/> Faux