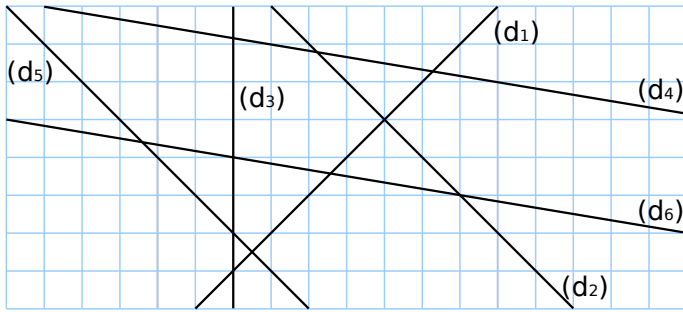
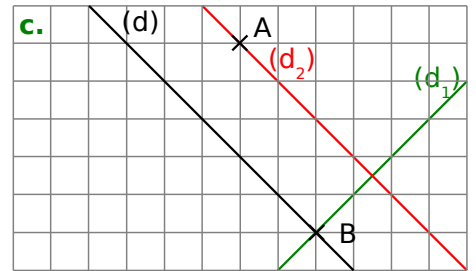
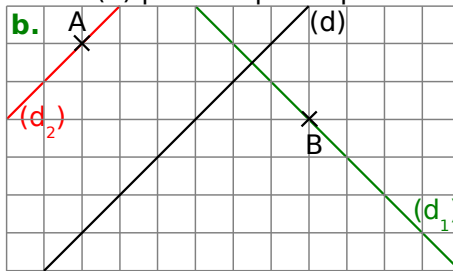
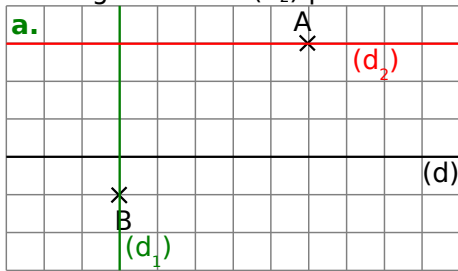


1 En utilisant le quadrillage, complète le tableau.



Droites perpendiculaires	Droites parallèles
(d ₁) et (d ₂)	(d ₅) et (d ₂)
(d ₁) et (d ₅)	(d ₄) et (d ₆)

2 Sur chaque dessin, trace en vert la droite (d₁) perpendiculaire à la droite (d) passant par le point B et en rouge la droite (d₂) parallèle à la droite (d) passant par le point A.



3 Dans chaque cas, construis, avec les instruments de géométrie, la droite (d₁) parallèle à la droite (d) passant par le point M et la droite (d₂) perpendiculaire à la droite (d) passant par le point N.

