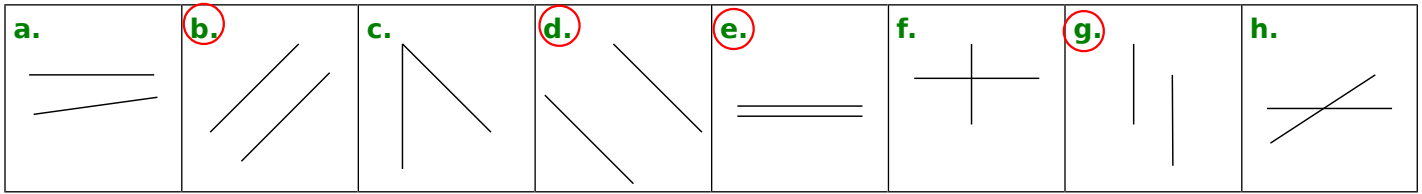
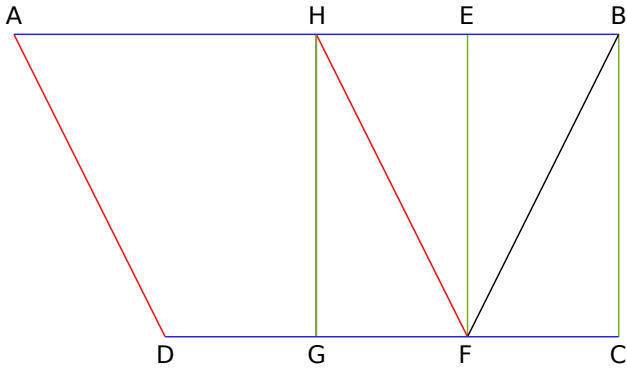


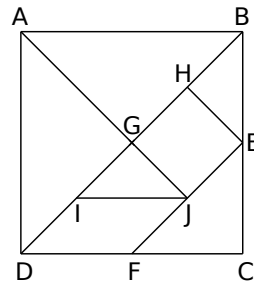
1 Dans chacun des cas suivants, entoure la lettre si les droites représentées sont parallèles.



2 Observe le dessin puis repasse d'une même couleur les droites qui sont parallèles.

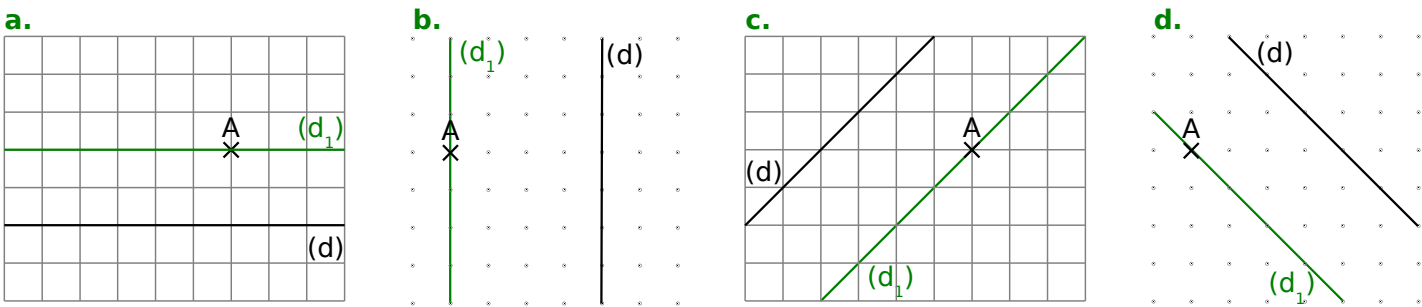


3 Les droites ci-dessous sont-elles parallèles ? Réponds par « oui » ou « non ».



- a. (BE) et (EJ) : non
- b. (IJ) et (FC) : oui
- c. (JE) et (AD) : non
- d. (BD) et (AJ) : non
- e. (AB) et (IJ) : oui
- f. (AJ) et (BC) : non

4 Pour chaque figure, trace en vert la droite (d_1) parallèle à la droite (d) passant par le point A.



5 Construis les droites (d_1) , (d_2) , (d_3) , (d_4) , (d_5) et (d_6) parallèles à (d) passant respectivement par les points A, B, C, D, E et F.

